

**TRƯỜNG TH NGUYỄN TẤT THÀNH**



**KHỐI 1**

**ĐỀ KIỂM TRA CUỐI HỌC KÌ I - NĂM HỌC 2023 - 2024**

**MÔN TOÁN**

*(Thời gian 40 phút không kể thời gian giao đề)*

**Câu 1: ( 2 điểm ) Số ?**

 <input type="text"/>	 <input type="text"/>
-----------------------------------------------------------------------------------------------------------	------------------------------------------------------------------------------------------------------------

**Câu 2: (1 điểm) :Khoanh vào chữ đặt trước câu trả lời đúng:**

Trong các số 0, 3, 5, 1. Số lớn nhất là:

A. 0

B. 5

C. 3

**Câu 3. (1 điểm)**

$3 + \dots = 5$  Số cần điền vào chỗ chấm là :

A. 2

B. 1

C. 3

**Câu 4: Tính: (4 điểm)**

$1 + 1 = \dots$

$5 - 0 = \dots$

$3 + 2 = \dots$

$4 - 3 = \dots$


$1 + 2 = \dots$

$2 - 1 = \dots$

$2 + 2 = \dots$

$3 - 2 = \dots$



**Câu 5: ( 2 điểm )** Viết phép tính thích hợp với hình vẽ:



--	--	--	--	--

### Đáp án

Câu 1: ( 2 điểm ) Số ?

 <div style="border: 1px solid black; width: 30px; height: 30px; display: flex; align-items: center; justify-content: center; margin: 10px auto;">2</div>	 <div style="border: 1px solid black; width: 30px; height: 30px; display: flex; align-items: center; justify-content: center; margin: 10px auto;">3</div>
-----------------------------------------------------------------------------------------------------------------------------------------------------------------------------------------------------------------------------------------------	------------------------------------------------------------------------------------------------------------------------------------------------------------------------------------------------------------------------------------------------

Câu 2: (1 điểm) :Khoanh vào chữ đặt trước câu trả lời đúng:

Trong các số 0, 3, 5, 1. Số lớn nhất là:

A. 0

**B. 5**

C. 3

Câu 3. (1 điểm)

$3 + \dots = 5$  Số cần điền vào chỗ chấm là :

**A. 2**

B. 1

C. 3

Câu 4: Tính: (4 điểm)

$$1 + 1 = 2$$

$$5 - 0 = 5$$

$$3 + 2 = 5$$

$$4 - 3 = 1$$


$$1 + 2 = 3$$

$$2 - 1 = 1$$

$$2 + 2 = 4$$

$$3 - 2 = 1$$

**Câu 5: ( 2 điểm )** Viết phép tính thích hợp với hình vẽ:



<b>3</b>	<b>+</b>	<b>1</b>	<b>=</b>	<b>4</b>
----------	----------	----------	----------	----------

**TRƯỜNG TH NGUYỄN TẤT THÀNH**

**KHỐI 1**

**ĐỀ KIỂM TRA CUỐI HỌC KÌ I - NĂM HỌC 2023 - 2024**

**MÔN TIẾNG VIỆT**

*(Thời gian 40 phút không kể thời gian giao đề)*

**1. Đọc âm (2 điểm)**

a, b, c, d, đ, e, ê, g, h

**2. Đọc vần (3 điểm)**

an, hi, cà, bà, bố mẹ

**3. Viết (5 điểm)**

a

b

ca

bà

bố mẹ

.....

Người duyệt

Người ra đề

*Nguyễn Thị Tâm*



*Lê Thị Tinh*

BGH

Nguyễn Duy Thế