

Trường TH Nguyễn Tất Thành

Lớp: 5...

Họ và tên: .....

.....

KỂM TRA CUỐI HỌC KÌ I

MÔN: TIN HỌC – LỚP 5

Thời gian: 35 phút

Thứ ... ngày ... tháng 12 năm 2023

<u>Điểm</u>	<u>Nhận xét của giáo viên</u>

**A – PHẦN LÝ THUYẾT: (4 điểm)**

Em hãy khoanh tròn vào đáp án đúng cho mỗi câu hỏi dưới đây. Mỗi câu trả lời đúng được 0,5 điểm.

**Câu A1: Trong chương trình Tin học 5, em đã được học biên tập 1 đoạn phim với phần mềm nào?**

- A. Photo Story 3 for Windows                      C. MSW Logo  
B. Windows Movie Maker                            D. Encore

**Câu A2: Muốn giải nén tệp tin BAITAP.zip, em nhấp chọn lệnh nào?**

- A. Add to archive                                      C. Add to BAITAP.7z  
B. Add to BAITAP.zip                                D. Extract here

**Câu A3: Câu lệnh nào dưới đây yêu cầu Rùa quay sang phải 90 độ?**

- A. RT 90                      B. LT 90                      C. FD 90                      D. BK 90

**Câu A4: Để biên tập dữ liệu dạng HÌNH ẢNH, em chọn lệnh nào?**

- A. Import pictures                                    C. Import audio or music  
B. Import video                                        D. Edit Movie

**Câu A5: Quan sát lệnh và cho biết, Rùa đang thực hiện vẽ hình gì?**

FD 100 RT 90

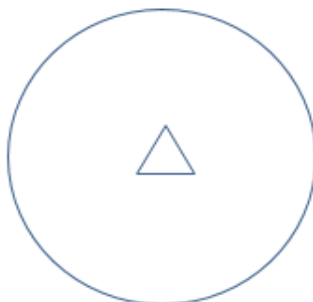
FD 100 RT 90

FD 100 RT 90

FD 100 RT 90

- A. Hình tam giác      B. Hình vuông      C. Hình chữ nhật      D. Hình ngũ giác

**Câu A6: Em cần sử dụng lệnh nào để vẽ được hình bên dưới?**



- A. Ellipse2                      B. Ellipse                      C. Circle                      D. Circle2

**Câu A7: Em sử dụng ứng dụng nào dưới đây để tra từ điển?**

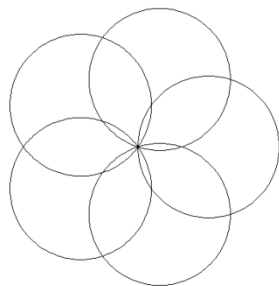
A. Google Map

C. Google Play

B. Google Meet

D. Google Translate

**Câu A8: Em sử dụng nhóm lệnh nào để vẽ được hình bên dưới**



A. REPEAT 2 [ CIRCLE2 100 RT 360/2 ]


B. REPEAT 3 [ CIRCLE2 100 RT 360/3 ]

C. REPEAT 4 [ CIRCLE2 100 RT 360/4 ]

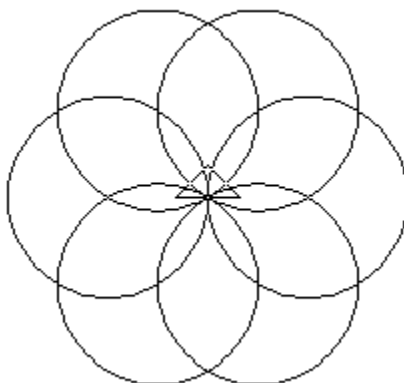
D. REPEAT 5 [ CIRCLE2 100 RT 360/5 ]

**B – PHẦN THỰC HÀNH: (6 điểm)**

**Câu B1:** Em hãy sử dụng **MSW Logo** để vẽ hình theo mẫu. (3 điểm)



**Câu B2** Em hãy sử dụng **MSW Logo** để vẽ hình theo mẫu. (3 điểm)



*Buôn Hồ, Ngày 22 tháng 12 năm 2022*  
**GVBM**

**BGH DUYỆT**  
**PHÓ HIỆU TRƯỞNG**

Nguyễn Thị Hiền

**Lê Nguyễn Ngọc Hạnh**

## **ĐÁP ÁN – Lớp 5**

### **A – PHẦN LÝ THUYẾT (4 điểm – mỗi câu trả lời đúng 0,5 điểm)**

A1. B	A3. A	A5. B	A7. D
A2. D	A4. A	A6. C	A8. D

### **B – PHẦN TỰ LUẬN (6 điểm)**

#### **Câu B1: (3 điểm)**

Học sinh sử dụng được các câu lệnh của Logo để vẽ hình theo mẫu

- Trường hợp 1: Học sinh vẽ hình bằng các lệnh tuần tự (2 điểm)
- Trường hợp 2: Học sinh sử dụng lệnh Repeat để vẽ hình (3 điểm)

#### **Câu B2: (3 điểm)**

Học sinh sử dụng được các câu lệnh của Logo để vẽ hình theo mẫu

- Trường hợp 1: Học sinh vẽ hình bằng các lệnh tuần tự (2 điểm)
- Trường hợp 2: Học sinh sử dụng lệnh Repeat để vẽ hình (3 điểm)